

# Итоговая контрольная работа по ГЕОГРАФИИ

## 7 класс

### Пояснение к итоговой контрольной работе

На выполнение контрольной работы по географии отводится один урок(40 минут). Работа состоит из двух частей и включает в себя 10 заданий. Часть 1 включает в себя 5 заданий. Часть 2 включает в себя 5 заданий.

При выполнении работы не разрешается пользоваться учебниками, рабочими тетрадями, справочным материалом. При выполнении всех заданий работы можно использовать карты атласа 7 класса.

При необходимости можно пользоваться черновиком. Записи в черновике проверяться и оцениваться не будут.

Советуем выполнять задания в том порядке, в котором они даны. В целях экономии времени пропускайте задание, которое не удаётся выполнить сразу, и переходите к следующему. Если после выполнения работы у Вас останется время, то Вы сможете вернуться к пропущенным заданиям.

### Система оценивания проверочной работы

Полный правильный ответ на каждое задание 1 части оценивается 1 баллом. Полный правильный ответ на каждое задание 2 части оценивается 2 баллами. Если в ответе допущена хотя бы одна ошибка (один из элементов ответа записан неправильно или не записан), выставляется 0 баллов.

Максимальный первичный балл за выполнение работы—15.

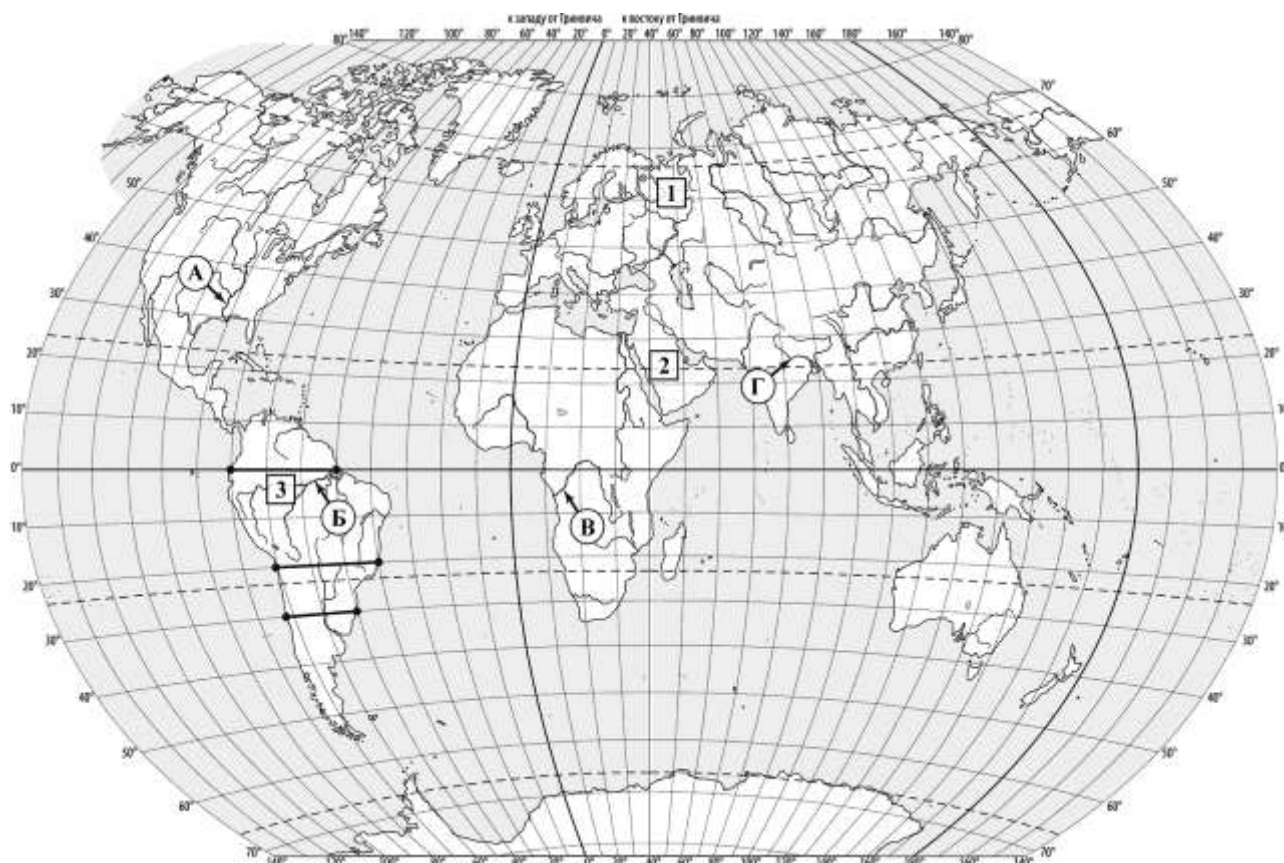
*Рекомендации по переводу первичных баллов отметки по пятибалльной шкале*

Отметка по пятибалльной шкале	«5»	«4»	«3»	«2»
Первичные баллы	15-11	10-17	6-4	3-0

**Желаем успехов!**

## Часть 1

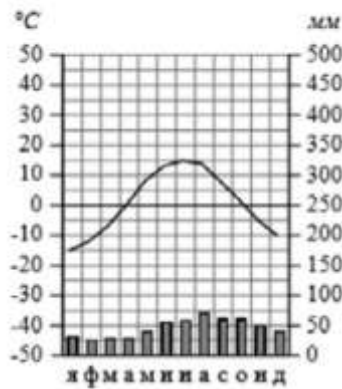
1. Реки играют важную роль во многих природных процессах на всех материках Земли. Определите, какой буквой на карте обозначена река Конго.
2. Остров Мадагаскар относится к числу крупнейших островов Земли. Отметьте его на карте знаком «V».



3. Из приведённой ниже климатограммы заполните таблицу климатических показателей, используя данные соответствующей климатограммы

Средняя температура воздуха, °С		Годовая амплитуда температур, °С	Годовое количество осадков, мм	Месяц, на который приходится наибольшее количество осадков
в январе	в июле			

Высота над ур. моря – 13 м  
 Кол-во осадков в год – 545 мм



4. Определите, какой природной зоне мира соответствуют приведённые ниже характеристики? Укажите в ответе название этой природной зоны.

- 1) Эта зона занимает большие территории в Северном полушарии (в Северной Америке и Евразии).
- 2) Чётко выражены сезоны года.
- 3) В растительном покрове преобладают хвойные деревья.
- 4) Формируются подзолистые почвы.
- 5) Типичные представители животного мира: бурый медведь, лисица, волк, белка.

Ответ: \_\_\_\_\_

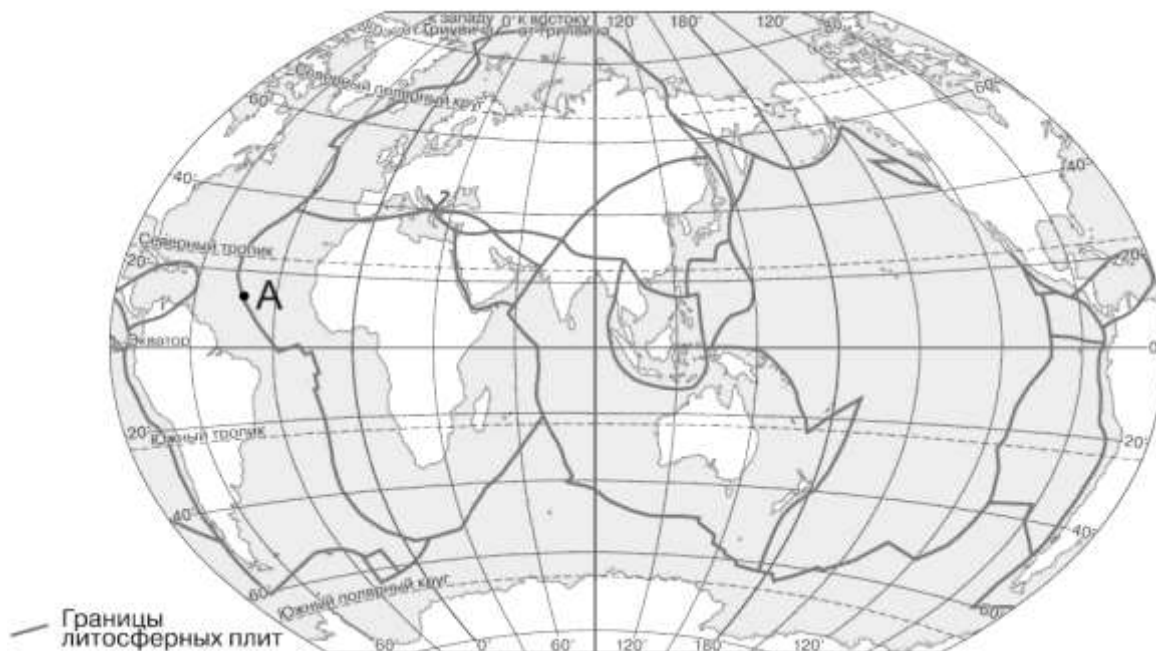
5. Установите соответствие между материками и их географическими особенностями.

Материки:	Географические особенности:
А) Африка	1) На материке расположена самая крупная пустыня мира.
Б) Евразия	2) Восточная часть материка — это современная рифтовая зона с глыбовыми горами и глубочайшими впадинами, многие из которых заняты озёрами.
	3) На территории материка находится самое влажное место на Земле (Черапунджи), где выпадает более 12 000 мм осадков в год.
	4) Центральную часть материка занимают джунгли.
	5) Материк имеет разветвлённую речную сеть, относящуюся к бассейнам четырёх океанов.
	6) На материке расположена высочайшая горная система мира, в пределах которой находится самая высокая вершина Земли.

## Часть 2

6. Определите, какой процесс происходит на границе литосферных плит в точке, обозначенной на карте буквой А.

## Границы литосферных плит



- 1) Раздвижение земной коры океанического типа
- 2) Раздвижение земной коры материкового типа
- 3) погружение плиты с земной корой океанического типа под плиту с корой материкового типа
- 4) столкновение плит с земной корой материкового типа

*Задания 7-9 выполняются с использованием приведённой ниже таблицы.*

**Территория, численность и возрастной состав населения некоторых стран, 2017г.**


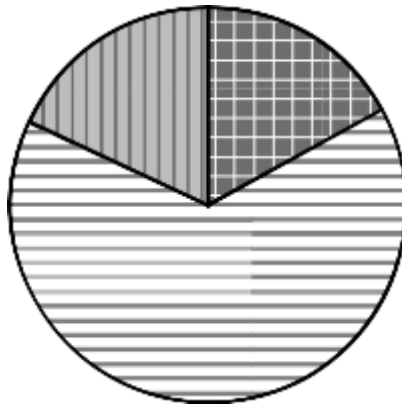
Страна	Площадь территории, км <sup>2</sup>	Численность населения, млн человек	Доля населения, %		
			в возрасте до 15 лет	в возрасте от 15 до 65 лет	в возрасте 65 лет и старше
1) Бразилия	8 358 140	211	22	69	9
2) Великобритания	229 946	66	17	65	18
3) Нигер	1 266 700	22	49	48	3
4) Япония	364 485	126	13	59	28

7. Расположите страны в порядке **увеличения** численности населения, начиная со страны с самой маленькой численностью. Запишите в ответе последовательность **порядковых номеров** этих стран.

Ответ:

--	--	--	--


8. Возрастной состав населения какой страны отражает представленная на рисунке диаграмма? Запишите в ответе **название** страны.



доля населения  
в возрасте до 15 лет



доля населения  
в возрасте от 15 до 65 лет



доля населения  
в возрасте 65 лет и старш

Ответ: \_\_\_\_\_

9. Определите, в какой из представленных в таблице стран средняя плотность населения наибольшая. Запишите в ответе **название** страны.

Ответ: \_\_\_\_\_

10. Определите страну по её краткому описанию.

Особенностью географического положения этой страны является выход к морям Тихого океана. По численности населения и размерам территории она входит в пятёрку крупнейших стран мира. Её территория расположена в трёх климатических поясах, для восточной части характерен муссонный климат. Коренное население относится к монголоидной расе. В городах проживает около 60 % населения. Страна занимает лидирующие позиции в мире по производству многих видов промышленной и сельскохозяйственной продукции.

Ответ: \_\_\_\_\_