

# Итоговая контрольная работа по ГЕОГРАФИИ

8 класс

## Пояснение к итоговой контрольной работе

На выполнение контрольной работы по географии отводится один урок(40 минут). Работа состоит из двух частей и включает в себя 10 заданий. Часть 1 включает в себя 5 заданий. Часть 2 включает в себя 5 заданий.

При выполнении работы не разрешается пользоваться учебниками, рабочими тетрадями, справочным материалом. При выполнении всех заданий работы можно использовать карты атласа 8 класса.

При необходимости можно пользоваться черновиком. Записи в черновике проверяться и оцениваться не будут.

Советуем выполнять задания в том порядке, в котором они даны. В целях экономии времени пропускайте задание, которое не удаётся выполнить сразу, и переходите к следующему. Если после выполнения работы у Вас останется время, то Вы сможете вернуться к пропущенным заданиям.

## Система оценивания проверочной работы

Полный правильный ответ на каждое задание оценивается 1 баллом. Если в ответе допущена хотя бы одна ошибка (один из элементов ответа записан неправильно или не записан), выставляется 0 баллов.

Максимальный первичный балл за выполнение работы –10.

*Рекомендации по переводу первичных баллов отметки по пятибалльной шкале*

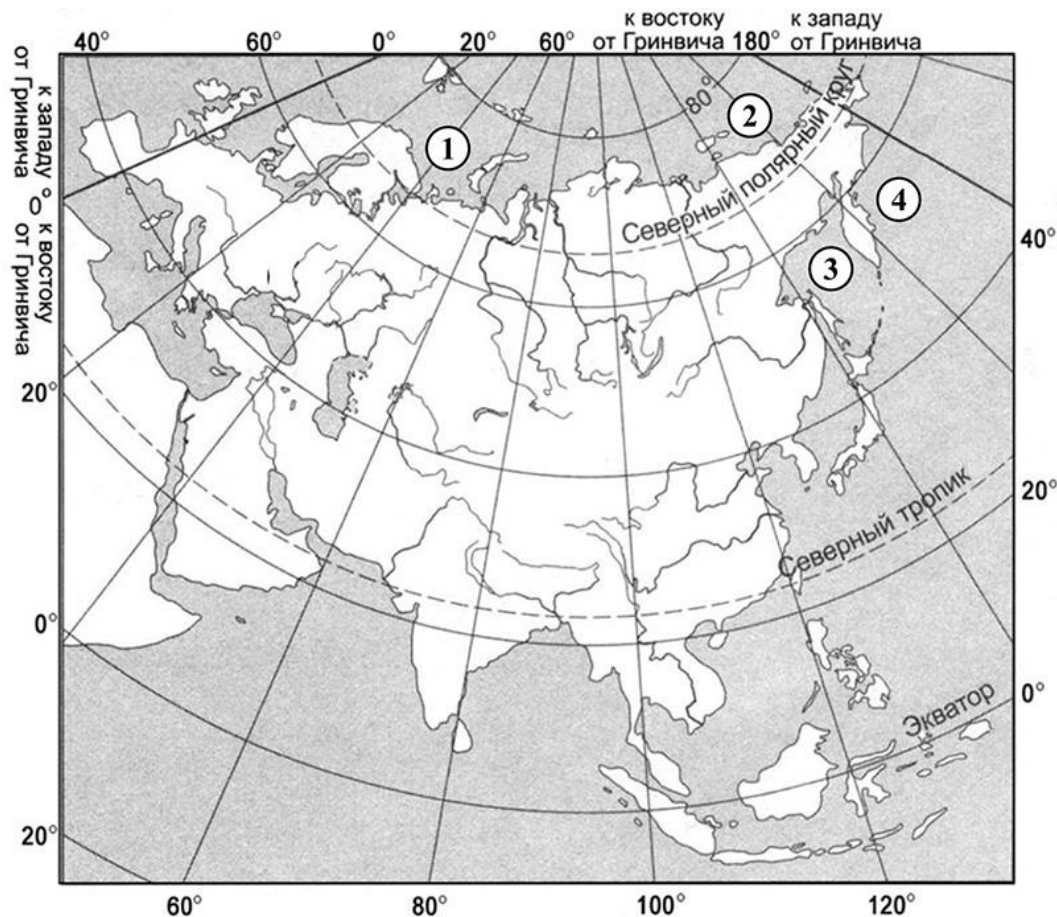
Отметка по пятибалльной шкале	«5»	«4»	«3»	«2»
Первичные баллы	10–9	8–7	6–5	4-0

**Желаем успехов!**

# 1 вариант

## Часть 1

1. Россия расположена в северной части материка Евразия и занимает более 30% его территории. Установите соответствие между морями, омывающими территорию России, их обозначениями на карте Евразии: к каждому элементу первого столбца подберите соответствующий элемент из второго столбца.



МОРЯ	ОБОЗНАЧЕНИЯ НА КАРТЕ
А) Берингово	1) 1
Б) Восточно-Сибирское	2) 2
В) Охотское	3) 3
	4) 4

2. С какой из перечисленных стран граничит Россия?

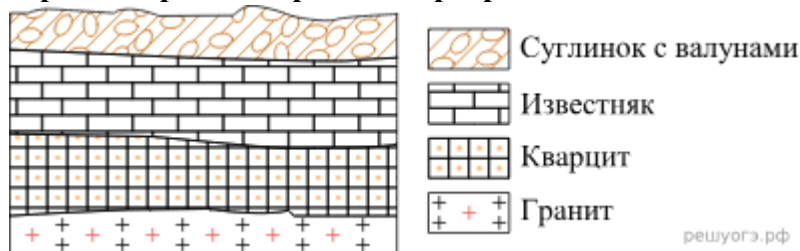
- 1) Киргизия
- 2) Абхазия
- 3) Таджикистан
- 4) Молдавия

3. Установите соответствие между примерами природных ресурсов и типами, к которым они относятся: к каждому элементу первого столбца подберите соответствующий элемент из второго столбца.

ПРИМЕРЫ ПРИРОДНЫХ РЕСУРСОВ	ТИПЫ ПРИРОДНЫХ РЕСУРСОВ
А) Энергия ветра	1) исчерпаемые невозобновляемые
Б) нефть	2) неисчерпаемые
В) Природный газ	

4.

Во время экскурсии учащиеся сделали схематическую зарисовку залегания горных пород на обрыве в карьере.



Расположите показанные на рисунке слои горных пород в порядке увеличения их возраста (от самого молодого до самого древнего). Запишите в ответ получившуюся последовательность букв.

- А) известняк
- Б) суглинок с валунами
- В) кварцит

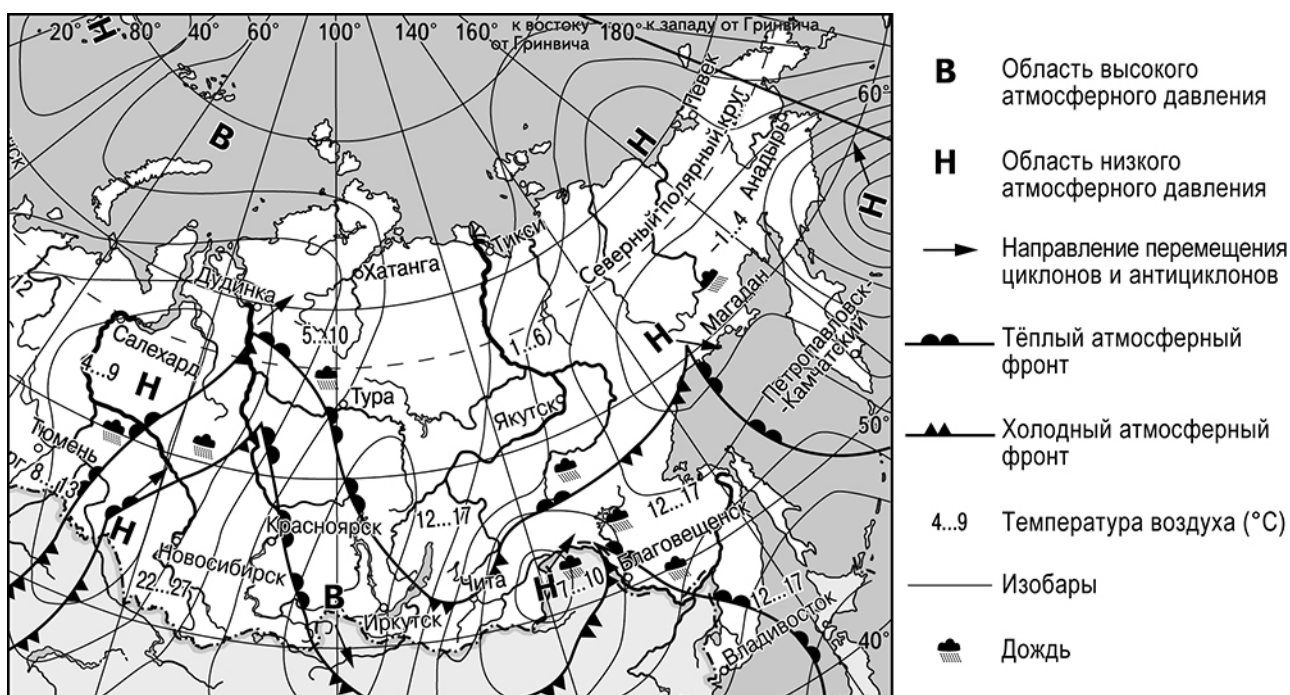
5. Водный режим реки оказывает большое влияние на судоходство и работу гидроэлектростанций. Для какой из перечисленных рек характерно летнее половодье?

- 1) Амур
- 2) Волга
- 3) Нева
- 4) Ангара

## Часть 2

Задания выполняются с использованием приведённой ниже карты погоды.

Карта погоды на 2 июня (на 15 часов по московскому времени)



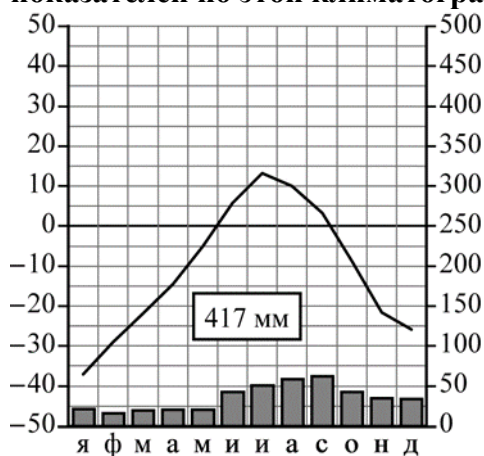
6. Аня из Якутска прослушала прогноз погоды по радио: «Завтра, 3 июня, ожидается потепление, в первой половине дня возможен дождь, ветер юго-западный, умеренный», но не услышала, для её ли города этот прогноз был составлен. С помощью карты определите, для какого из показанных на карте населённых пунктов был составлен этот прогноз.

Ответ: \_\_\_\_\_

7. Школьник из Норильска отправил письмо с описанием особенностей местного климата своему другу, который живёт в Казани.

Климат в нашем городе суровый. Морозы начинаются уже в сентябре – октябре, а зимой достигают  $-40$ – $-45^{\circ}\text{C}$ . Зимой снега немного, но дуют сильные холодные ветры и часты метели. Лето короткое и прохладное, температура не поднимается выше  $+15^{\circ}\text{C}$ . Большая часть осадков выпадает в начале осени.

Используя сведения, содержащиеся в письме, заполните таблицу климатических показателей по этой климатограмме.



Средняя температура воздуха, °C		Годовая амплитуда температур, °C	Годовое количество осадков, мм	Месяц, на который приходится наибольшее количество осадков
В январе	В июле			

**Задания 8 и 9 выполняются с использованием статистических данных**

### Численность и естественный прирост населения некоторых регионов России (человек)

Регион	Численность постоянного населения на 1 января			Естественный прирост населения, значение показателя за год		
	2020 г.	2021 г.	2022 г.	2020 г.	2021 г.	2022 г.
Владимирская область	1 358 416	1 342 099	1 323 659	-14 490	-18 914	-13 671
Архангельская область	1 136 535	1 127 051	1 114 322	-7147	-10 788	-7298
Мурманская область	741 404	732 864	724 452	-3437	-5547	-3122
Республика Тыва	327 383	330 368	331 488	-2121	-3266	3080

8. В каком из регионов в 2022 г. показатель рождаемости населения превышал показатель смертности?

- 1) Владимирская область
- 2) Архангельская область
- 3) Мурманская область
- 4) Республика Тыва

9. Определите величину миграционного прироста населения Владимирской области в 2021 г.

Ответ: \_\_\_\_\_

**Задания 10 выполняется с использованием приведённого ниже текста.**

### Особенности рельефа Карелии

Карелия находится на северо-западе Восточно-Европейской (Русской) равнины. В её основании залегает Балтийский щит – одна из древнейших структур земной коры. Выходы на поверхность твёрдых магматических и метаморфических горных пород – гранитов, гнейсов, кварцитов – распространены на всей территории республики.

Большую часть территории занимает спешрэнная озёра и холмистая равнина с высотами от 100 до 120 м. Вдоль северо-западной границы Карелии протянулись невысокие (576 м) горы Манселья.

Характерной особенностью рельефа Карелии являются повсеместно встречающиеся плоские сглаженные округлые скалы из твёрдых кристаллических пород – «бараньи лбы», валуны и глыбы внушительных размеров.

10. Какие структуры земной коры называют щитами?

Ответ: \_\_\_\_\_

### 2 вариант

#### Часть 1

1. На рисунках представлены контуры стран — соседей России с указанием столиц этих стран. Подпишите под каждым рисунком рядом с номером название соответствующей страны.



Определите расположение указанных Вами стран на схеме и впишите в пустые квадраты их номера.



2. Какой из перечисленных городов, показанных на карте, находится в зоне действия антициклона?

- А) Благовещенск Б) Красноярск В) Магадан Г) Иркутск



3. Какая горная вершина является самой высокой в России?

- А) Белуха  
 Б) Народная  
 В) Эльбрус  
 Г) Ключевская Сопка

Ответ: \_\_\_\_\_

4. Установите соответствие между видами природных ресурсов и типами, к которым они относятся

Виды ресурсов    Типы ресурсов

1. Солнечная энергия А) исчерпаемые возобновимые  
 2. Почвенные Б) исчерпаемые невозобновимые

3. Лесные В) неисчерпаемые

4. Минеральные

**5. На границе с какой из перечисленных стран находится крайняя южная точка России?**

А) Казахстан

Б) Китай

В) Финляндия

Г) Азербайджан

## Часть 2

**1. Прочитайте текст и ответьте на вопрос.**

*Учащиеся нескольких школ, находящихся в разных городах России, обмениваются результатами наблюдений, которые проводятся ими на географических площадках. 21 марта в полдень по солнечному времени каждого из городов (во всех городах действует московское время) они определили высоту Солнца над горизонтом и зафиксировали температуру воздуха. Результаты их наблюдений приведены в следующей таблице.*

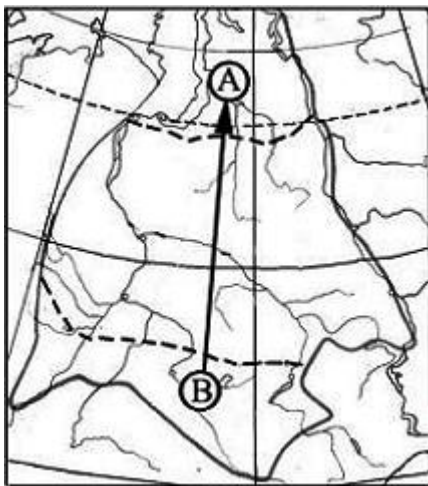
Пункт наблюдения	Координаты пункта наблюдения	Высота Солнца над горизонтом	Температура воздуха, °С	Время наблюдения, МСК
Санкт-Петербург	60° с.ш. 30° в.д.	30°	+4 °С	13 ч.
Москва	56° с.ш. 37° в.д.	34°	+1 °С	13 ч. 28 м.
Липецк	53° с.ш. 40° в.д.	37°	+6 °С	13 ч. 40 м
Астрахань	46° с.ш. 48° в.д.	44°	+8 °С	14 ч.

**Какую из изученных на уроках географии закономерностей подтверждают собранные данные?**

- 1) Континентальность климата увеличивается в направлении с северо-запада на юго-восток.
- 2) Температура воздуха изменяется в течение суток
- 3) Высота Солнца изменяется в зависимости от географической широты местности.
- 4) Высота Солнца изменяется в течение дня в зависимости от времени наблюдения.

**2. Какое утверждение о географическом положении России является верным?**

- 1) На юго-западе Россия граничит с Украиной.
- 2) Крайняя северная точка страны находится на полуострове Ямал.
- 3) Площадь территории страны превышает 20 млн кв. км.
- 4) Россия омывается морями четырех океанов.



3. Из какой природной зоны Западной Сибири в какую переместится путешественник, совершив перелёт по маршруту В – А, показанному на карте?

- 1) из зоны степей в зону арктических пустынь
- 2) из зоны степей в зону тундры
- 3) из зоны тундры в зону степей
- 4) из зоны пустынь и полупустынь в зону тундры

4. Какие горы в России являются линией климатического раздела между областями умеренно-континентального и континентального типов климата умеренного пояса?

- 1) Кавказские
- 2) Уральские
- 3) Алтай
- 4) Саяны

5. Определите, в каком из обозначенных буквами на карте Северного полушария пунктах 20 декабря Солнце раньше (по времени Гринвичского меридиана) поднимется над горизонтом. Запишите обоснование вашего ответа.

